



សាលាបឋមសិក្សា.....
 ឈ្មោះសិស្ស.....

កិច្ចការផ្ទះ
គណិតវិទ្យា ថ្នាក់ទី១
មេរៀនទី១៥ "ពេលវេលា"

១. ចូរគូស ✓ ក្នុង រូបសម្គាល់ពេលព្រឹក (១ពិន្ទុ)



ក.



ខ.

២. ចូរគូស ✓ ក្នុង រូបសម្គាល់ពេលយប់ (១ពិន្ទុ)



ក.



ខ.

៣. ចូរគូសរង់លើរូបដែលបង្ហាញពីសកម្មភាពពេលព្រឹក (១ពិន្ទុ)



ក



ខ

៧. ចូររៀបលំដាប់សកម្មភាពប្រចាំថ្ងៃចាប់ពីពេលព្រឹក ដល់យប់តាមរូបភាពខាងក្រោម (២ពិន្ទុ)

(ក)

(ខ)

(គ)



លំដាប់សកម្មភាពប្រចាំថ្ងៃ(គ).....

៨. ចូរជ្រើសរើសពាក្យ (ពេលព្រឹក ពេលថ្ងៃត្រង់ ពេលល្ងាច ពេលយប់) ទៅសរសេរឱ្យត្រូវនឹងរូបភាព (២ពិន្ទុ)



.....



.....



សាលាបឋមសិក្សា.....

ឈ្មោះសិស្ស.....

កិច្ចការផ្ទះ

គណិតវិទ្យា ថ្នាក់ទី១

មេរៀនទី១៥ "ពេលវេលា" ដល់ មេរៀនទី១៦ "ក្រាបរូបភាព"

១. ចូរគូស ✓ ក្នុង ចំនួនថ្ងៃក្នុងមួយសប្តាហ៍ (១ពិន្ទុ)

- ក. ៥ថ្ងៃ
- ខ. ៦ថ្ងៃ
- គ. ៧ថ្ងៃ
- ឃ. ៨ថ្ងៃ

២. ចូរគូស ✓ ក្នុង ថ្ងៃទី១នៃសប្តាហ៍ (១ពិន្ទុ)

- ក. ថ្ងៃចន្ទ
- ខ. ថ្ងៃពុធ
- គ. ថ្ងៃសៅរ៍
- ឃ. ថ្ងៃអាទិត្យ

៣. ចូរគូស ✓ ក្នុង ថ្ងៃទី៧នៃសប្តាហ៍ (១ពិន្ទុ)

- ក. ថ្ងៃអាទិត្យ
- ខ. ថ្ងៃចន្ទ
- គ. ថ្ងៃសុក្រ
- ឃ. ថ្ងៃសៅរ៍

៤. ចូរគូស ✓ ក្នុង ចំនួនខែក្នុងមួយឆ្នាំ (១ពិន្ទុ)

- ក. ៧ខែ
- ខ. ៩ខែ
- គ. ១២ខែ
- ឃ. ១៣ខែ

៥. ចូរគូស ✓ ក្នុង ខែទី១នៃឆ្នាំ (១ពិន្ទុ)

- ក. ខែកុម្ភៈ
- ខ. ខែធ្នូ
- គ. ខែមករា
- ឃ. មីនា

៦. ចូរគូស ✓ ក្នុង ខែទី១២ នៃឆ្នាំ (១ពិន្ទុ)

- ក. ខែមិថុនា
- ខ. ខែសីហា
- គ. ខែធ្នូ
- ឃ. ខែតុលា

៧. ចូរសរសេរឈ្មោះខែទី៤នៃឆ្នាំ (១ពិន្ទុ)

ខែ.....

៧. ចូរប្រាប់ពីពេលវេលាតាមសកម្មភាពក្នុងរូបខាងក្រោម (១ពិន្ទុ)



ពេលល្ងាច ខ្ញុំចេញពីរៀននៅម៉ោង.....

៤. ចូរគូសវង់លើរូបដែលបង្ហាញពីសកម្មភាពពេលថ្ងៃត្រង់ (១ពិន្ទុ)



ក



ខ

៥. ចូរគូសវង់លើរូបដែលបង្ហាញពីសកម្មភាពពេលល្ងាច (១ពិន្ទុ)



ក



ខ

៦. ចូរគូសវង់លើរូបដែលបង្ហាញពីសកម្មភាពពេលយប់ (១ពិន្ទុ)



ក



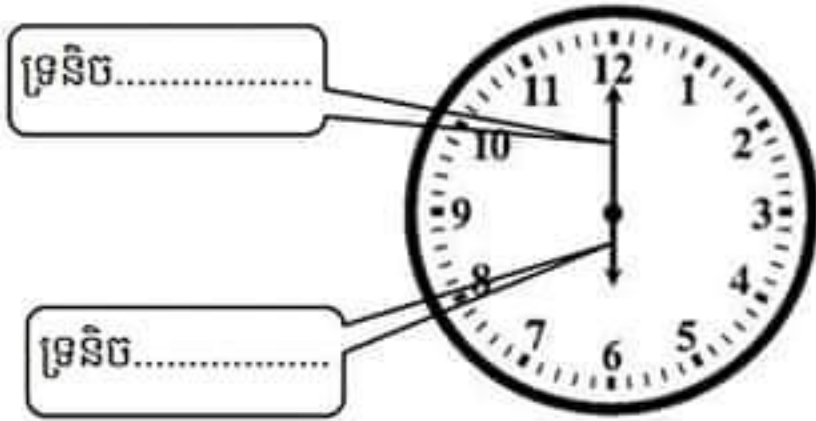
ខ



សាលាបឋមសិក្សា.....
 ឈ្មោះសិស្ស.....

កិច្ចការផ្ទះ
គណិតវិទ្យា ថ្នាក់ទី១
មេរៀនទី១៥ "ពេលវេលា"

១. ចូរសរសេរឈ្មោះទ្រនិចនាឡិកា (១ពិន្ទុ)



២. ចូរពិនិត្យមើលរូបនាឡិកា រួចឆ្លើយនឹងសំណួរ (១ពិន្ទុ)

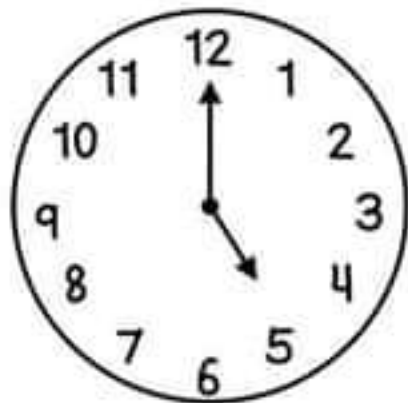


-ទ្រនិចម៉ោងចង្កូលចំលេខ.....
 -ទ្រនិចនាទីចង្កូលចំលេខ.....

៣. ចូរអានម៉ោងខាងក្រោម (២ពិន្ទុ)

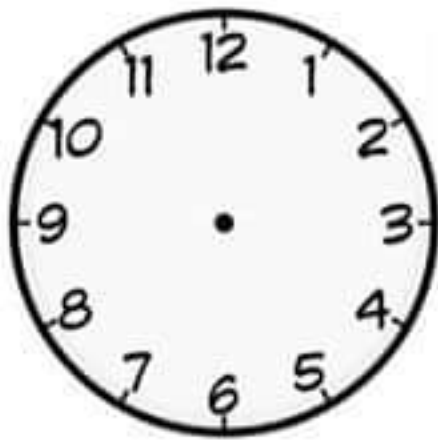


អានថាម៉ោង.....

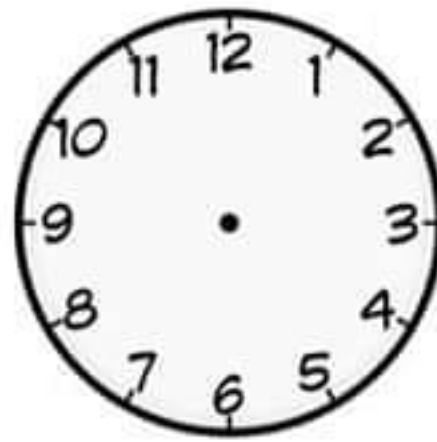


អានថាម៉ោង.....

៤. ចូរគូសទ្រនិចនាឱ្យកាបង្ហាញម៉ោងខាងក្រោម (២ពិន្ទុ)



ម៉ោង៩គត់



ម៉ោង១១គត់

៥. ចូរគូសភ្ជាប់ការអានម៉ោងទៅនឹងរូបនាឱ្យកា (២ពិន្ទុ)



ម៉ោង៨គត់



ម៉ោង៦គត់



ម៉ោង២គត់



ម៉ោង៧គត់

៦. ចូរប្រាប់ពីពេលវេលាតាមសកម្មភាពក្នុងរូបខាងក្រោម (១ពិន្ទុ)



ពេលព្រឹក ខ្ញុំចូលរៀននៅម៉ោង.....