



សាលាបឋមសិក្សា.....  
 ឈ្មោះសិស្ស.....

**កិច្ចការផ្ទះ**  
**គណិតវិទ្យា ថ្នាក់ទី១**  
**មេរៀនទី១៤ "ចំណុះ"**

១. ចូរគូស ✓ ក្នុង □ នៃការប្រៀបធៀបចំណុះវត្ថុខាងក្រោម (១ពិន្ទុ)



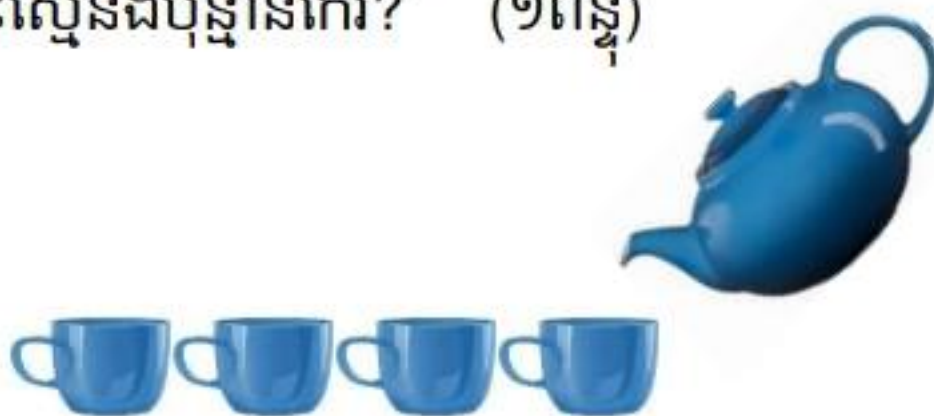
- ក.  កែវតិចជាងដប      ខ.  (ក) កែវច្រើនជាងដប      គ.  ស្មើគ្នា

២. ចូរគូស ✓ ក្នុង □ នៃការប្រៀបធៀបចំណុះវត្ថុខាងក្រោម (១ពិន្ទុ)



- ក.  ស្មើគ្នា      ខ.  កែវតិចជាងដប      គ.  កែវច្រើនជាងដប

៣. តើប៉ាន់មានចំណុះស្មើនឹងប៉ុន្មានកែវ? (១ពិន្ទុ)



- ក.  ១ កែវ      ខ.  ២ កែវ      គ.  ៣ កែវ      ឃ.  ៤ កែវ

៤. ចូរបំពេញចំនួនចំណុះតាមរូបភាពខាងក្រោម (២ពិន្ទុ)

កំសៀវមានចំណុះស្មើនឹង.....កែវខ្នាត

កំសៀវមានចំណុះស្មើនឹង.....កែវខ្នាត

៥. ចូរបំពេញចំនួនចំណុះតាមរូបភាពខាងក្រោម (២ពិន្ទុ)



៦. ចូរគូសវង់លើអក្សរនៃរូបដែលមានចំណុះច្រើនជាងគេ (១ពិន្ទុ)



ក



ខ



គ



ឃ

៧. ចូរគូសវង់លើអក្សរនៃរូបដែលមានចំណុះតិចជាងគេ (១ពិន្ទុ)



ក



ខ



គ



ឃ

៨. ចូររៀបលំដាប់ចំណុះពី តិច ទៅ ច្រើន (១ពិន្ទុ)



លំដាប់ចំណុះពីតិចទៅច្រើន ...១.....





សាលាបឋមសិក្សា.....  
 ឈ្មោះសិស្ស.....

**កិច្ចការផ្ទះ**  
**គណិតវិទ្យា ថ្នាក់ទី១**

**មេរៀនទី១៣ “ទម្ងន់” ដល់មេរៀនទី១៤ “ចំណុះ”**

១. ចូរគូស ✓ ក្នុង  នៃរូបដែលមានចំណុះច្រើនជាង (១ពិន្ទុ)



ក.



ខ.

២. ចូរគូស ✓ ក្នុង  នៃរូបដែលមានចំណុះតិចជាង (១ពិន្ទុ)



ក.



ខ.

៣. ចូរប្រៀបធៀបចំណុះដោយប្រើពាក្យ “ច្រើនជាង ឬ តិចជាង” (១,៥ពិន្ទុ)



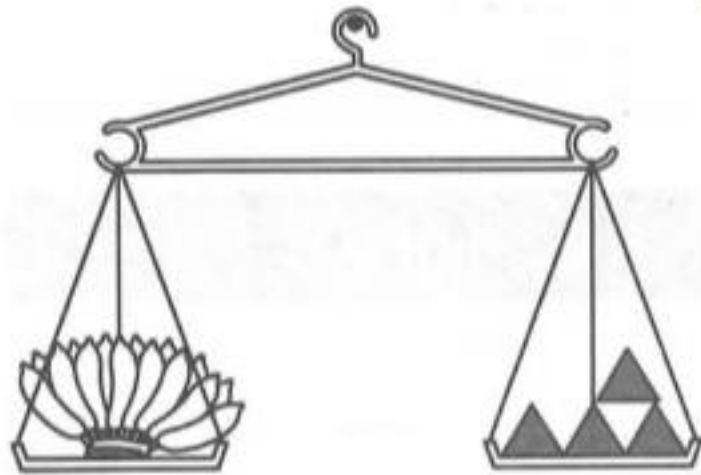
ដបមានចំណុះ .....កែវ។

៤. ចូរប្រៀបធៀបចំណុះដោយប្រើពាក្យ “ច្រើនជាង ឬ តិចជាង” (១,៥ពិន្ទុ)




កំសៀវមានចំណុះ.....ធុង។

៥. ចូរបំពេញចំនួនក្នុង  តាមរូបខាងក្រោម (១ពិន្ទុ)



ចេកមានទម្ងន់ស្មើនឹង  ខ្នាត

៦. ចូរបំពេញចំនួនក្នុង  តាមរូបខាងក្រោម (១ពិន្ទុ)



ត្រីមានទម្ងន់ស្មើនឹង  ខ្នាត

៦. ចូរបំពេញចំនួនក្នុង  តាមរូបខាងក្រោម (១ពិន្ទុ)




ផ្លែល្ពៅមានទម្ងន់ស្មើនឹង  ខ្នាត

៨. ចូរពិនិត្យមើលជញ្ជីងរួចប្រាប់ទម្ងន់ (២ពិន្ទុ)



មានមានទម្ងន់.....គីឡូក្រាម



អង្ករមានទម្ងន់.....គីឡូក្រាម